

GENEL KÜLTÜR

DİKKAT: BU BÖLÜMDE YANITLAYACAĞINIZ SORU SAYISI 60'TIR.

1-37 SORU

"Atatürk İlkeleri ve İnkılap Tarihi" ile "Türk Kültür ve Medeniyetleri"

38-60 SORU

"Türkiye Coğrafyası"

61-75 SORU:

"Temel Yurttaşlık Bilgisi ve Güncel Konular" ile ilgilidir.

Bu bölümdeki sorularla ilgili cevaplarınızı, cevap kağıdınızdaki "GENEL KÜLTÜR" bölümüne işaretleyiniz.

1. Aşağıdakilerden hangisi Uygurların yerleşik hayata geçtiğinin bir göstergesi olamaz?

- A) Sulama kanalları yapmaları
- B) Tarımla uğraşmaları
- C) Evlerde yaşamaları
- D) Tapınaklar yapmaları
- E) Atı evcilleştirmeleri

2. I. Yönetim birimlerinin sayıca az olmasının
II. Merkezi otoritenin korunmak istendiğinin
III. Devlet yönetiminde deneyim kazanılması
önem verildiğinin

Yukarıdakilerden hangileri Selçuklularda erkek hanedan üyelerinin yanlarında bilgili devlet yöneticileriyle eyalet veya vilayetlere yönetici olarak gönderilmelerinin nedenleri arasında yer alır?

- A) Yalnız I
- B) Yalnız II
- C) Yalnız III
- D) I ve II
- E) I, II ve III

3. Aşağıdakilerden hangisi Anadolu Selçuklu Devleti'nde Meliklerin yanına devlet yönetimi ve siyaseti öğretmesi amacıyla görevlendirilmiştir?

- A) Melik
- B) Atabey
- C) Ahi
- D) Subaşı
- E) Muhtesip

4. Aşağıdakilerden hangisi Tımar Sistemi'nin faydalarından birisi değildir?

- A) Üretimde süreklilik sağlanmıştır
- B) Devlet için ordu yetiştirilmiştir
- C) Bölgenin güvenliği sağlanmıştır
- D) Toprağın boş kalması önlenmiştir
- E) Alınan yıllık vergilerle hazine güçlenmiştir

5. Osmanlı Devleti'nde Ekberi Erşed sistemi (hanedanın en yaşlı üyesinin tahta geçmesi) aşağıdakilerin hangisi döneminde gerçekleşmiştir?

- A) I. Murad
- B) II. Bayezid
- C) II. Mehmet
- D) III. Selim
- E) I. Ahmed

6. I. Risale
II. Ferman
III. Fetva

Yukarıdakilerden hangileri Padişahın kesin kararı anlamındadır?

- A) Yalnız I
- B) Yalnız II
- C) Yalnız III
- D) I ve II
- E) II ve III

7. I. Avrupa'da elçiliklerin açılması
II. İç ayaklanmaların çıkması
III. Ticaret yollarının yön değiştirmesi

Yukarıdakilerden hangileri Osmanlı İmparatorluğu'nda XVII. yüzyılda ekonomik durumun bozulmasının nedenlerinden biridir?

- A) Yalnız I
- B) Yalnız II
- C) Yalnız III
- D) I ve II
- E) II ve III

8. Aşağıdakilerden hangisi Lale Devri (1718 - 1730) yeniliklerinden değildir?

- A) Yeniçerilerden itfaiye bölüğünün kurulması
- B) İstanbul'da kumaş fabrikasının açılması
- C) Avrupa'da daimi elçiliklerin açılması
- D) İlk çiçek aşısının yapılması
- E) Tercüme odaları kurularak, Doğu klasiklerin Türkçeye çevrilmesi

9. I. Herkesin can ve mal güvenliğinin sağlanması
II. Gayrimüslimlere il genel meclisi üyesi olma hakkının tanınması
III. Herkesin kanun önünde eşit haklara sahip olması

Yukarıdakilerden hangisi Tanzimat dönemi yenilikleri arasında yer almaktadır?

- A) Yalnız I B) Yalnız II C) Yalnız III
D) I ve II E) I, II ve III

10. Türklerin ilk anayasası aşağıdakilerden hangisidir?

- A) 1876 Kanun-i Esasi
B) 1908 Anayasası
C) 1921 Anayasası
D) 1924 Anayasası
E) 1937 Anayasası

11. Osmanlı Devleti Arnavutluk'u aşağıdakilerin hangisi ile kaybetmiştir?

- A) Trablusgarp Savaşı
B) I. Balkan Savaşı
C) II. Balkan Savaşı
D) I. Dünya Savaşı
E) Kurtuluş Savaşı

12. I. Kafkasya Cephesi
II. Hicaz-Yemen Cephesi
III. Suriye-Filistin Cephesi

Yukarıdakilerden cephelerden hangilerini I. Dünya Savaşı'nda Osmanlı Devleti açmıştır?

- A) Yalnız I B) Yalnız II C) Yalnız III
D) I ve II E) II ve III

13. I. Ulusal bilincin yayılmasında etkili olmuşlardır.
II. Düşmanın ilerleyişini durdurmuşlardır.
III. İhtiyaçlarını gerektiği zaman halktan zorla karşılamışlardır.

Yukarıdakilerden hangileri Kuvay-i Milliye birliklerinin özellikleri arasında yer almaktadır?

- A) Yalnız I B) Yalnız II C) Yalnız III
D) I ve II E) I ve III

14. Aşağıdakilerden hangisi Ulusal mücadeleye destek veren yayınlar arasında yer almaz?

- A) İrade-i Milliye Gazetesi
B) Hakimiyet-i Milliye Gazetesi
C) Tasvir-i Efkâr
D) Anadolu Ajansı
E) Peyam-ı Sabah

15. I. Vatanın bütünlüğü ve milletin bağımsızlığı tehlikededir
II. İstanbul Hükümeti üzerine düşen sorumluluğu yerine getirmemektedir
III. Ulusun geleceğini yine ulusun azim ve kararı kurtaracaktır

Amasya Genelgesi'nde alınan yukarıdaki kararlardan hangileri Kurtuluş Savaşı'nın yön temini göstermektedir?

- A) Yalnız I B) Yalnız II C) Yalnız III
D) I ve II E) II ve III

16. Erzurum Kongresi'nin aşağıdaki kararlarından hangisinde "ulusal bağımsızlığın gerçekleştirileceği, ardından millet egemenliğine dayalı bir devletin kurulacağı" görüşü çıkarılabilir?

- A) Ulusal sınırlar içinde vatan bir bütündür parçalanamaz
B) Manda ve himaye kabul edilemez
C) Her türlü işgale karşı millet birleşip karşı koyacaktır
D) Hristiyanlara sosyal ve siyasi dengemizi bozucu haklar verilemez
E) Ulusal güçleri etkin, milli iradeyi egemen kılmak esastır

17. TBMM'nin uluslararası alanda imzaladığı ilk antlaşma aşağıdakilerden hangisidir?

- A) Sevr Antlaşması
- B) Gümrü Antlaşması
- C) Kars Antlaşması
- D) Ankara Antlaşması (1921)
- E) Moskova Antlaşması

18. I. İstiklal Marşı kabul edildi
II. Londra Konferansı toplandı
III. Sovyet Rusya ile Moskova Antlaşması imzalandı
Yukarıdakilerden hangileri I. İnönü Savaşı'nın sonuçları arasında yer almaktadır?

- A) Yalnız I
- B) Yalnız II
- C) Yalnız III
- D) I ve II
- E) I, II ve III

19. Aşağıdakilerden hangisi **Sakarya Savaşı'nın sonuçları arasında yer almaz?**

- A) Mustafa Kemal'e Gazilik ve Mareşallik unvanı verildi
- B) Tekalif-i Milliye emirleri yayınlandı
- C) Fransa ile Ankara Antlaşması imzalandı
- D) Sovyet Rusya ile Kars Antlaşması imzalandı
- E) Malta'daki esirler serbest bırakıldı

20. I. Kapitülasyonlar
II. Azınlık Meselesi
III. Suriye sınırı
Yukarıdakilerden hangileri Lozan Antlaşması'ndan sonra TBMM'nin lehine çözümlenen konular arasında yer almaz?

- A) Yalnız I
- B) Yalnız II
- C) Yalnız III
- D) I ve II
- E) II ve III

21. II. TBMM'nin ilk onayladığı antlaşma aşağıdakilerden hangisidir?

- A) Mudanya Ateşkes Antlaşması
- B) Moskova Antlaşması
- C) Gümrü Antlaşması
- D) Kars antlaşması
- E) Lozan Barış Antlaşması

22. Misak-i Milli'den verilen ilk taviz aşağıdakilerden hangisidir?

- A) Musul
- B) Hatay
- C) Batum
- D) Irak
- E) Batı Trakya

23. Takrir-i Sükun Kanunu aşağıdakilerden hangisi tarafından çıkarılmıştır?

- A) I. TBMM
- B) II. TBMM
- C) Temsil Heyeti
- D) Son Osmanlı Mebusan Meclisi
- E) Mustafa Kemal Atatürk

24. I. Fethi Okyar tarafından kurulmuştur
II. Liberal ekonomiyi benimsemiştir
III. Kurulan ilk muhalefet partisidir
Yukarıdakilerden hangisi Serbest Cumhuriyet fırkasının özellikleri arasında yer almaktadır?

- A) Yalnız I
- B) Yalnız II
- C) Yalnız III
- D) I ve II
- E) II ve III

25. I. Harf İnkılabı
II. Halifeliğin kaldırılması
III. Şeriye ve Evkaf vekaletinin kaldırılması
Yukarıdakilerin hangileri doğrudan Laiklikle ilgili uygulamalardandır?

- A) Yalnız I
- B) Yalnız II
- C) Yalnız III
- D) II ve III
- E) I, II ve III

26. I. Okur- yazar sayısının artması
II. Konuşma ve yazı dili arasındaki farkı kaldırma
III. Arşivlerdeki eserleri tercüme etme
Latin harflerine geçişle yukarıdakilerden hangileri amaçlanmamıştır?

- A) Yalnız I
- B) Yalnız II
- C) Yalnız III
- D) I ve II
- E) I ve III

27. Aşağıdakilerden hangisi Atatürk'ün Milliyetçilik anlayışıyla bağdaşmaz?

- A) Türk milletinin manevi değerlerine sahip çıkmak
- B) Türk milletini sosyal, siyasal ve ekonomik alanda en üst seviye çıkarmak
- C) Her türlü saldırıya sömürüye karşı çıkmak
- D) Toprak bütünlüğü ve bağımsızlığı korunmalıdır
- E) Türk ırkının üstünlüğünü esas alınmalıdır

28. I. Balkan Antantı
II. Montreux Boğazlar Sözleşmesi
III. Sadabat Pakti

Yukarıdakilerden hangileri Atatürk Dönemi gelişmeler arasında yer alır?

- A) Yalnız I
- B) Yalnız II
- C) Yalnız III
- D) I ve III
- E) I, II ve III

29. 17 Şubat 1926'da Türk Medeni Kanunu'nun getirdiği yenilikler arasında aşağıdakilerden hangisi yer almaz?

- A) Kadınlara evlenme- boşanma hakkının verilmesi
- B) Kadınlara meslek seçme hakkının verilmesi
- C) Türk vatandaşı olan herkesin Türk kanunlarına tabi olması
- D) Patrikhanelerin mahkeme kurma, evlendirme, boşandırma, miras paylaşımı gibi yetkilerinin elinden alınması
- E) Kadınlara belediye seçimlerine katılma hakkının verilmesi

30. Atatürk'ün "yurtta sulh, cihanda sulh" ilkesi doğrultusunda 1932 yılında aşağıdakilerin hangisine üye olunmuştur?

- A) Milletler Cemiyeti
- B) Sadabat Pakti
- C) Balkan Antantı
- D) Birleşmiş Milletler
- E) AET

31. Türkiye Cumhuriyeti'nin dış politikadaki ilk siyasi başarısı aşağıdakilerden hangidir?

- A) Yabancı okullar sorunu
- B) Musul meselesi
- C) Hatay meselesi
- D) Nüfus mübadelesi
- E) Kapitülasyonlar

32. * Ekonomik yatırımları devlet eliyle yapılması
* Halkın refahının yükseltilmesi

Yukarıda verilenler, aşağıdaki Atatürk ilkelelerinden hangisiyle bağdaşmaktadır?

- A) Milliyetçilik
- B) Halkçılık
- C) Devletçilik
- D) İnkılapçılık
- E) Cumhuriyetçilik

33. I. Aşar vergisinin kaldırılması
II. Kılık Kıyafet Kanunu
III. Soyadı Kanunu

Yukarıdakilerden hangisi Halkçılık ilkesi doğrultusunda yapılmıştır?

- A) Yalnız I
- B) Yalnız II
- C) Yalnız III
- D) I ve II
- E) I, II ve III

34. * Toplum kurallarını çağa uygun bir şekle getirmek
* Statik (durağan) değil, dinamik'tir.
* Batılılaşma ve Çağdaşlaşma yolunda daima ilerlemeyi esas alır

Yukarıdaki özellikleri verilen Atatürk ilkesi aşağıdakilerden hangisidir?

- A) Laiklik
- B) İnkılapçılık
- C) Cumhuriyetçilik
- D) Devletçilik
- E) Milliyetçilik

35. I. Hafta tatilinin Pazar gününe alınması
II. Ölçü birimi olarak metreye geçilmesi
III. Kılık Kıyafet Kanunu'nda değişiklik yapılması

Yukarıdakilerden hangileri uluslararası ticaretin kolaylaştırılması amacıyla gerçekleştirilen inkılaplar arasında yer alır?

- A) Yalnız I
- B) Yalnız II
- C) Yalnız III
- D) I ve II
- E) I ve III

36. Türk denizlerinde ve limanlarında yolcu ve yük taşıma hakkı aşağıdakilerin hangisi ile Türk gemilerine verilmiştir?

- A) İzmir iktisat Kongresi
- B) Teşvik-i Sanayi Kanunu
- C) Kabotaj Kanunu
- D) Misak-i Millinin kabulü
- E) I. Beş yıllık Kalkınma Planı

37. I. Millet Mektepleri

II. Halkevleri

III. Köy Enstitüleri

Yukarıdakilerden hangileri Atatürk döneminde açılmamıştır?

- A) Yalnız I
- B) Yalnız II
- C) Yalnız III
- D) I ve III
- E) II ve III

38. Türkiye'nin gerçek alanı ile izdüşüm alanı arasında 35.126 km²'lik fark vardır. Bu farkın oluşması aşağıdakilerden hangisiyle açıklanır?

- A) Engebe ve yükseltisinin fazla olmasıyla
- B) Ovalarının geniş yer kaplamasıyla
- C) Üç tarafının denizlerle çevrili olmasıyla
- D) Yer altı kaynakları bakımından zengin olmasıyla
- E) İklim çeşitliliğinin yaşanmasıyla

39. - Yaz mevsimi sıcak ve kuraktır.
- Karstik şekiller yaygındır.
- Nüfusu, turizm etkinliklerine bağlı olarak artar.

Yukarıda özellikleri verilen bölüm aşağıdakilerden hangisidir?

- A) Adana Bölümü
- B) Batı Karadeniz Bölümü
- C) Antalya Bölümü
- D) Güney Marmara Bölümü
- E) Orta Kızılırmak Bölümü

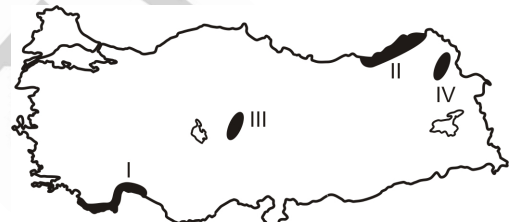
40. Aşağıdakilerden hangisi Türkiye'nin özel konumunun sonuçlarından değildir?

- A) Ortalama yükseltisinin fazla olması
- B) Yıl içinde dört mevsimin belirgin olarak yaşanması
- C) Yeraltı kaynakları bakımından zengin olması
- D) Boğazların doğu-batı doğrultusunda uzanması
- E) Sıcaklığın doğuya doğru azalması

41. Aşağıdaki ovalardan hangisi oluşum bakımından diğerlerinden farklıdır?

- A) Çukurova
- B) Silifke
- C) Bafra
- D) Çarşamba
- E) Konya ovası

42.



Yukarıdaki Türkiye haritasında verilen alanlarda yaygın olan doğal bitki örtüsü aşağıdakilerden hangisinde doğru olarak sıralanmıştır?

| | I | II | III | IV |
|----|-------|--------|--------|-------|
| A) | Orman | Maki | Bozkır | Çayır |
| B) | Maki | Orman | Bozkır | Çayır |
| C) | Orman | Bozkır | Maki | Orman |
| D) | Maki | Bozkır | Çayır | Orman |
| E) | Orman | Orman | Bozkır | Çayır |

43. Aşağıda verilen yanardağlardan hangisi İç Anadolu Bölgesinde yer almaz?

- A) Melendiz
- B) Erciyes
- C) Nemrut
- D) Hasandağı
- E) Karadağ

44. İç Anadolu Bölgesi ve Erzurum-Kars Bölümünün iklim özellikleri incelendiğinde;

- I. En fazla yağış ilkbahar mevsiminde düşer.
- II. Yağış şekli konveksiyoneldir. (yükselem)
- III. Kış mevsiminde yağışlar genelde kar şeklindedir.
- IV. Yazlar sıcak ve kurak geçer.

Özelliklerinden hangileri ortaktır?

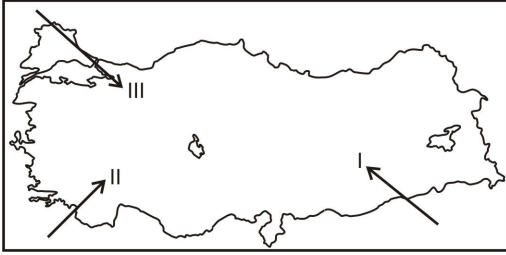
- A) I ve II B) I ve III C) I ve IV
D) II ve III E) III ve IV

45. Sanayinin kurulup gelişmesi için gerekli olan faktörlerden en önemlisi hammaddedir.

Buna göre, Ege Bölgesi'nde gelişen aşağıdaki sanayi kollarından hangisinin ham maddesi bölge içinden sağlanmaz?

- A) Sigara B) Pamuklu dokuma
C) Şeker D) Zeytinyağı
E) Petro-kimya

46. Türkiye'ye kuzeyden esen rüzgarlar sıcaklığı düşürürken, güneyden esen rüzgarlar artırır.



Yukarıdaki haritada numaralandırılmış yönlerden esen rüzgarlar aşağıdakilerden hangisinde doğru olarak verilmiştir?

- | I | II | III |
|------------|--------|---------|
| A) Samyeli | Lodos | Karayel |
| B) Lodos | Kible | Karayel |
| C) Karayel | Yıldız | Poyraz |
| D) Yıldız | Kible | Lodos |
| E) Samyeli | Lodos | Kible |

47. Aşağıda verilen hangi iki kent arasında yapılan karayolunun kilometre maliyeti diğerlerine göre daha yüksektir?

- A) Trabzon – Gümüşhane
B) Ankara – Konya
C) İzmir – Afyon
D) Gaziantep – Urfa
E) Tekirdağ – Edirne

48. Türkiye'de aşağıdaki tarım ürünlerinden hangisinin daha çok yetiştiği bölgede büyük baş hayvancılık daha fazla gelişmiştir?

- A) Buğday B) Pamuk C) Çay
D) Arpa E) Ayçiçeği

49. Karstik arazide erime sonucunda oluşan ovalara genellikle Akdeniz Bölgesinde rastlanır.

Aşağıdaki ovalardan hangisi buna örnektir?

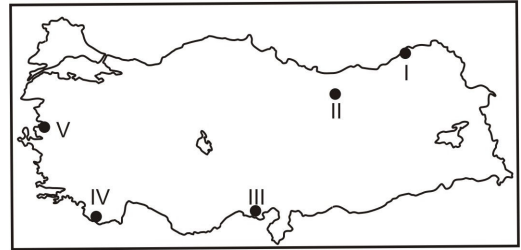
- A) Çukurova
B) Kestel
C) Silifke
D) Amik ovası
E) Büyük Menderes ovası

50. Aşağıda bazı turizm merkezleri ile bulundukları iller eşleştirilmiştir.

Bu eşleştirmelerden hangisi yanlıştır?

- A) Kartalkaya- Bolu
B) Nemrut Milli Parkı- Şanlıurfa
C) Truva- Çanakkale
D) Akmar Adası- Van
E) Sandıklı Kaplıcaları- Afyonkarahisar

51.



Yukarıda numaralandırılmış bölgelerden hangilerinin nüfuslanmasında daha çok tarım ve sanayi birlikte etkili olmuştur?

- A) I ve II B) I ve III C) II ve III
D) III ve V E) IV – V

52. Türkiye’de her yer deniz seviyesinde olsaydı; aşağıda verilen bölgelerden hangisinde enlemden kaynaklanan bölge içi sıcaklık farkı en fazla olurdu?

- A) Doğu Anadolu
- B) Ege
- C) Karadeniz
- D) Güneydoğu Anadolu
- E) İç Anadolu

53. Aşağıdaki tarım ürünlerinin hangisinin üretiminde Türkiye Dünya’da önemli bir paya sahip değildir?

- A) Fındık
- B) İncir
- C) Çay
- D) Tütün
- E) Kayısı

54. Marmara Bölgesinde şehirleşme oranı diğer bölgelerden daha yüksektir. Aşağıdakilerden hangisi bu durumun nedenlerinden biri değildir?

- A) Ulaşımın gelişmiş olması
- B) Ticaretin gelişmiş olması
- C) Sanayinin gelişmiş olması
- D) Bitki örtüsünün çeşitli olması
- E) Yer şekillerinin sade olması

55.

| Bölge | Yüzölçümü (km ²) | Nüfus (Bin) | Nüfus Yoğunluğu |
|------------|------------------------------|-------------|-----------------|
| Ege | 93.139 | 8.938 | 100 |
| Marmara | 67.306 | 17.365 | 241 |
| Karadeniz | 143.537 | 8.439 | 73 |
| Akdeniz | 122.907 | 8.706 | 98 |
| İç Anadolu | 163.057 | 11.608 | 63 |

Yukarıdaki tabloda bazı coğrafi bölgelerimizin yüzölçümleri ile 2000 yılı nüfus sayımına göre nüfusları ve nüfus yoğunlukları verilmiştir.

Buna göre, aşağıdakilerden hangisi söylenemez?

- A) Marmara’da hem nüfus hem de nüfus yoğunluğu verilen diğer bölgelerden fazladır.
- B) Ege’nin nüfus yoğunluğu Türkiye ortalamasının üstündedir.
- C) Verilen bölgeler içerisinde yüzölçümü en fazla olan bölgede nüfus yoğunluğu en azdır.
- D) Ege ve Akdeniz’in nüfus yoğunluğu birbirine yakındır.
- E) Karadeniz Bölgesi’nin yüzölçümü Akdeniz Bölgesi’nin yüzölçümünden fazla iken, nüfus yoğunluğu Akdeniz Bölgesi’nden azdır.

- 56. - Ortalama yükseltisi fazladır.
- Akarsuların enerji potansiyeli yüksektir.
- Linyit ve tuz yatakları yaygındır.

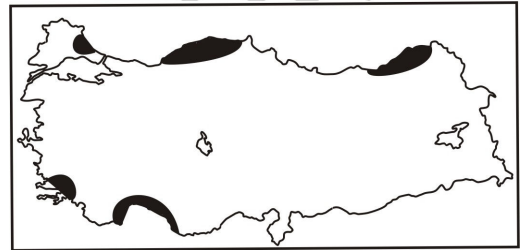
gibi Türkiye ili ilgili verilen özellikler aşağıdakilerden hangisinin kanıtıdır?

- A) Arazi yapısının genç oluşumlu olmasının
- B) Ovaların geniş yer tutmasının
- C) Volkanik yapıların bulunmasının
- D) Karstik arazinin yaygın olmasının
- E) Bitki örtüsünün cılız olmasının

57. Güneydoğu Anadolu Bölgesinde nüfus az olmasına rağmen, nüfus yoğunluğu fazladır. Bu durumun nedeni aşağıdakilerden hangisidir?

- A) Yüzölçümünün küçük olması
- B) Tarım alanlarının geniş olması
- C) Karasal iklimin görülmesi
- D) Nadasa ayrılan toprakların geniş olması
- E) Yer şekillerinin sade olması

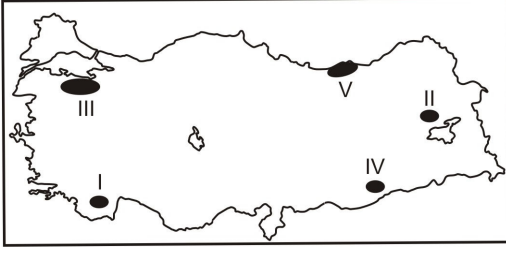
58.



Yukarıdaki haritada taralı alanların ortak özelliği aşağıdakilerden hangisidir?

- A) Evlerinin yapı malzemeleri
- B) Sıcaklık ortamlarının yüksek olması
- C) Toprak tipleri
- D) Yağış miktarlarının fazla olması
- E) Tarım ürünleri

59.



Türkiye'nin Temmuz ayı sıcaklık ortalaması düşünüldüğünde haritada numaralanmış alanlardan hangisinde sıcaklığın en yüksek olması beklenir?

- A) I B) II C) III D) IV E) V

60.



Yukarıdaki harita aşağıda verilen sanayi kuruluşlarından hangisinin dağılışını göstermektedir?

- A) Demir-Çelik sanayi
B) Petrol rafinerileri
C) Yünlü dokuma sanayi
D) Kağıt sanayi
E) Otomotiv sanayi

61. Aşağıdakilerden hangisi ara verme ve tatil sırasında TBMM'nin toplantıya çağrılmasını talep edemez?

- A) MGK
B) Bakanlar Kurulu
C) Meclis Başkanı
D) Cumhurbaşkanı
E) TBMM üye tamsayısının 1/5'i

62. Söz ve eylemleri ile partisinin kapatılmasına sebep olan milletvekilinin durumu hakkında aşağıdaki değerlendirmelerden hangisi doğrudur?

- A) Başka bir partiden milletvekilliği devam eder.
B) Milletvekilliği kendiliğinden düşer.
C) Milletvekilliği TBMM kararına bağlı olarak düşer.
D) Bağımsız milletvekili konumuna düşer.
E) Milletvekili dokunulmazlığı kalkar ancak milletvekilliği devam eder.

63. Milletlerarası anlaşmaları onaylama yetkisi aşağıdakilerden hangisine aittir?

- A) Cumhurbaşkanı
B) Dışişleri Bakanı
C) Bakanlar Kurulu
D) TBMM
E) Başbakan

64. Aşağıdakilerden hangisi TBMM'nin bilgi edinme ve denetim yollarından biri değildir?

- A) Gensoru
B) Genel soruşturma
C) Meclis araştırması
D) Genel görüşme
E) Soru

65. 1982 Anayasası'nın 3. maddesine göre, aşağıdakilerden hangisi değiştirilemeyecek ve değiştirilmesi teklif dahi edilemeyecek hükümlerden biri değildir?

- A) Bayrağın şekli B) Millî Marş
C) Başkent D) Devletin dili
E) Vatan hizmeti

66. 1982 Anayasası'na göre, savaş hâli ilanı yetkisi aşağıdakilerden hangisine aittir?

- A) TBMM
B) Başbakan
C) Cumhurbaşkanı
D) Millî Savunma Bakanı
E) Genelkurmay Başkanı

67. 1982 Anayasası'na göre yürütme yetkisi ve görevi aşağıdakilerden hangisi tarafından yerine getirilir?

- A) Cumhurbaşkanı
- B) Bakanlar Kurulu
- C) Bakanlar
- D) Valilikler ve Bakanlar Kurulu
- E) Cumhurbaşkanı ve Bakanlar Kurulu

68. Aşağıdakilerden hangisi 1982 Anayasasında siyasi haklar ve ödevler arasında sayılmıştır?

- A) Türk Vatandaşlığı
- B) Sendika Kurma Hakkı
- C) Dernek Kurma Hakkı
- D) Toplantı ve Gösteri Yürüyüşü Düzenleme Hakkı
- E) İspat Hakkı

69. Hangisi merkezi idarenin taşra teşkilatı örgütlerindendir?

- A) Bakanlık
- B) Devlet Planlama Teşkilatı
- C) İl İdaresi
- D) Başbakanlık
- E) Belediye

70. Egemenliğin tek bir merkezde toplandığı devlet sistemine ne ad verilir?

- A) Feodal sistem
- B) Sosyal sistem
- C) Üniter sistem
- D) Eyalet sistemi
- E) Konfederasyon sistemi

71. İnsan haklarıyla ilgili aşağıdaki ifadelerden hangisi yanlıştır?

- A) İnsan hakları dokunulmaz haklardır.
- B) İnsan hakları sınırlandırılmaz haklardır.
- C) İnsan hakları vazgeçilmez haklardır.
- D) İnsan hakları devredilmez haklardır.
- E) İnsan hakları insan onuruna bağlı haklardır.

72. Türkiye'de uygulanan enflasyon hedeflemesinde kullanılan enflasyon göstergesi aşağıdakilerden hangisidir?

- A) Tüketici fiyatları endeksi
- B) Üretici fiyatları endeksi
- C) GSMH deflatörü
- D) Çekirdek enflasyon
- E) Varlık fiyatları endeksi

73. Aşağıdakilerden hangisi Türkiye'de mevduat toplama yetkisi olan özel bankalardan biri değildir?

- A) Vakıfbank
- B) Akbank
- C) Yapı ve Kredi Bankası
- D) Türkiye İş Bankası
- E) Türkiye Garanti Bankası

74. Çevrenin ve doğanın korunması için faaliyet gösteren zaman zaman faaliyetlerini eylemleri yoluyla duyuran dünya çapında faaliyet gösteren çevre örgütü aşağıdakilerden hangisidir?

- A) Kyoto Eylem Grubu
- B) Tema Vakfı
- C) Green Peace
- D) UNDP
- E) Küresel Eylem Grubu

75. UNESCO, 2007 yılının Mevlânâ Yılı olması tavsiye kararını alırken, 2008 ve 2009 yıllarını da Türk kültür ve tarihinin 3 önemli şahsiyetine ayırdı.

2008 yılı UNESCO tarafından hangi Türk bü-yüğüne ayrılmıştır?

- A) Katip Çelebi
- B) Köroğlu Ruşen Ali
- C) Yunus Emre
- D) Söğütoğlu Laz Hasan
- E) Kaşgarlı Mahmut

LÜTFEN CEVAPLARINIZI KONTROL EDİNİZ.